


Enharmonische Entsprechung II


Vervollständige diese Übungen:

1. Kreise die Takte ein, deren Noten sich *nicht* enharmonisch entsprechen.



2. Um welche bekannten Lieder und Kompositionen handelt es sich hier. Schreibe die Namen auf die Linien.


Name des Stückes _____



Name des Stückes _____



Name des Stückes _____



Name des Stückes _____

